





## Calculer avec un tableau - Nombres jusqu'à 10

8				
7				
6				
5				
4				
3				
2				
1				
				

Réponds aux questions. Regarde exactement le graphique.

Combien de coccinelles en plus par rapport aux papillons ?

Combien de lucioles en plus par rapport aux chenilles ?

Quel est le total des papillons et des lucioles ?

Combien de papillons en moins par rapport aux lucioles ?

Combien de différence entre chenilles et coccinelles ?

Quel est le total des chenilles et lucioles ?

Combien de chenilles en plus par rapport aux papillons ?

Combien de lucioles en moins par rapport aux coccinelles ?

Quel est le total des papillons et des chenilles ?