


## QUELQUES RÉVISIONS

### QUE SAIS-TU ENCORE ?


1. Quel signe est correct ? Relie



Addition



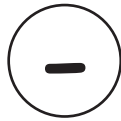
Multiplication



Division



Soustraction



2.

$85 + 16 = \underline{\quad}$      $24 + 69 = \underline{\quad}$      $78 + 43 = \underline{\quad}$      $345 + 55 = \underline{\quad}$      $122 + 31 = \underline{\quad}$

$96 - 54 = \underline{\quad}$      $123 - 49 = \underline{\quad}$      $76 - 21 = \underline{\quad}$      $57 - 38 = \underline{\quad}$      $145 - 87 = \underline{\quad}$

$$\begin{array}{r} 126 \\ + 451 \\ \hline \hline \end{array}$$

$$\begin{array}{r} 564 \\ + 85 \\ \hline \hline \end{array}$$

$$\begin{array}{r} 894 \\ + 549 \\ \hline \hline \end{array}$$

$$\begin{array}{r} 278 \\ + 457 \\ \hline \hline \end{array}$$

$$\begin{array}{r} 763 \\ + 78 \\ \hline \hline \end{array}$$

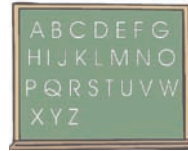
$$\begin{array}{r} 356 \\ - 78 \\ \hline \hline \end{array}$$

$$\begin{array}{r} 678 \\ - 245 \\ \hline \hline \end{array}$$

$$\begin{array}{r} 154 \\ - 47 \\ \hline \hline \end{array}$$

$$\begin{array}{r} 947 \\ - 458 \\ \hline \hline \end{array}$$

$$\begin{array}{r} 653 \\ - 245 \\ \hline \hline \end{array}$$



3. Maîtrises-tu les multiplications ?

$4 \times 3 = \underline{\quad}$      $5 \times 6 = \underline{\quad}$      $7 \times 4 = \underline{\quad}$      $9 \times 2 = \underline{\quad}$      $3 \times 9 = \underline{\quad}$

$5 \times 1 = \underline{\quad}$      $6 \times 8 = \underline{\quad}$      $9 \times 10 = \underline{\quad}$      $7 \times 5 = \underline{\quad}$      $8 \times 7 = \underline{\quad}$



4. Maîtrises-tu le „combien de fois... dans.. ?

$4 \text{ en } 20 = \underline{\quad} \text{ fois}$      $5 \text{ en } 40 = \underline{\quad} \text{ fois}$      $8 \text{ en } 48 = \underline{\quad}$      $1 \text{ en } 9 = \underline{\quad}$

$2 \text{ en } 12 = \underline{\quad}$      $6 \text{ en } 36 = \underline{\quad}$      $10 \text{ en } 80 = \underline{\quad}$      $8 \text{ en } 64 = \underline{\quad}$

$9 \text{ en } 81 = \underline{\quad}$      $3 \text{ en } 24 = \underline{\quad}$      $7 \text{ en } 42 = \underline{\quad}$      $4 \text{ en } 32 = \underline{\quad}$

5. Calcule !



$\underline{15 \times 8}$

$\underline{34 \times 7}$

$\underline{66 \times 3}$

$\underline{16 \times 9}$

$\underline{58 \times 4}$

=====

=====

=====

=====

=====

$\underline{245 \times 9}$

$\underline{158 \times 4}$

$\underline{2357 \times 8}$

$\underline{34 \times 23}$

$\underline{87 \times 12}$

=====

=====

=====

=====

=====

$8 : 4 =$

$40 : 8 =$

$15 : 3 =$

$32 : 4 =$

$72 : 8 =$

$48 : 4 =$

$32 : 2 =$

$99 : 9 =$

$72 : 3 =$

$80 : 5 =$

6. Mme Meyer achète 3 sèche-cheveux pour son salon de coiffure. Elle paie 105 €. Combien coûte 1 sèche-cheveux ?



7.

modèle noir :



8,90 €

modèle brun, très élégant :



12,50

bleu, modèle à la mode :



4,80

La plume à l'écriture parfaite :



15,90

a.) Quel stylo à encore est le moins cher ?

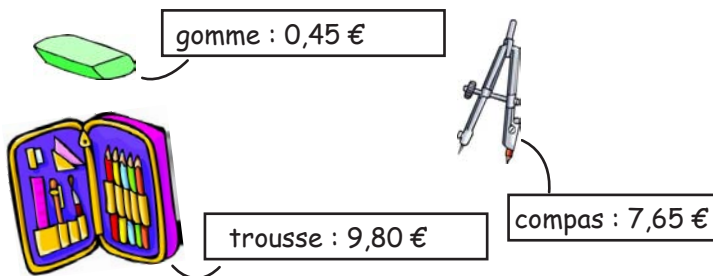
---

b.) Et de combien € et Cent le modèle bleu est-il moins cher que le noir ?

---

c.) De combien d'€ et Cent est la plume à l'écriture parfaite plus chère que le brun ?

---

8. Combien d'€ et Cent dois-tu payer à la caisse si tu achètes les 3 articles ?  
Combien on te rendra d'€ et Cent si tu paies avec un billet de 20 € ?

9. Un crayon coûte 0,65 €. Combien coûtent les 5 crayons ?

