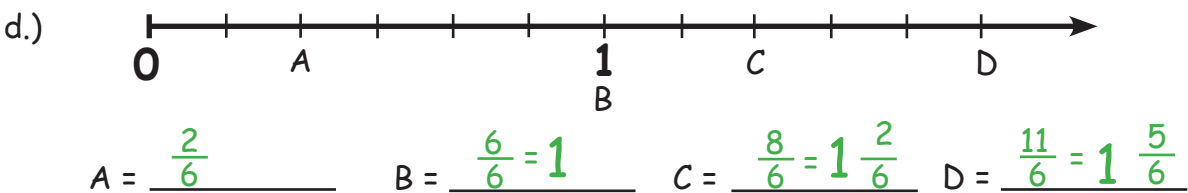
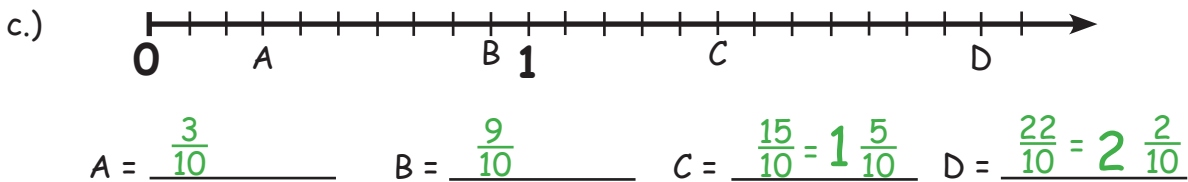
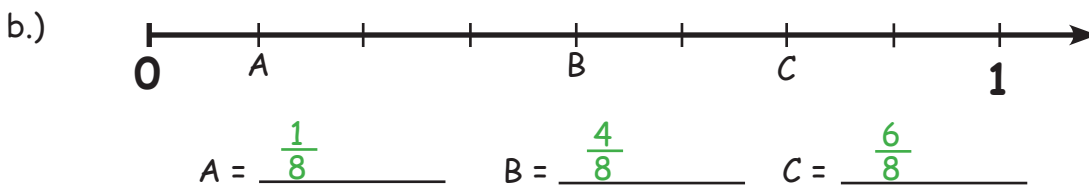
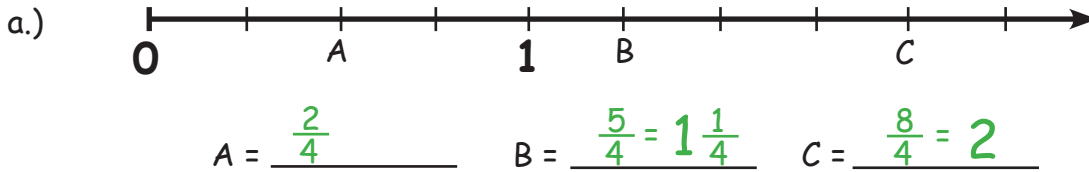
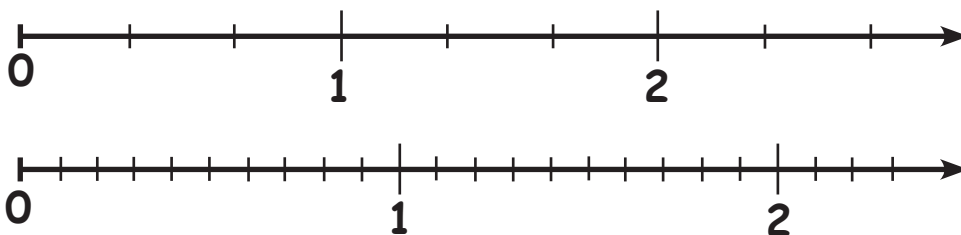


BRÜCHE AM ZAHLENSTRAHL

Welche Brüche sind am Zahlenstrahl markiert?



Wandle die folgenden Brüche am Zahlenstrahl in gemische Zahlen um!
Überlege dir zuerst, welchen Zahlenstrahl du verwenden musst!



a.) $\frac{4}{3} = \underline{1\frac{1}{3}}$ b.) $\frac{12}{10} = \underline{1\frac{2}{10}}$ c.) $\frac{8}{3} = \underline{2\frac{2}{3}}$ d.) $\frac{18}{10} = \underline{1\frac{8}{10}}$

e.) $\frac{20}{10} = \underline{2}$ f.) $\frac{7}{3} = \underline{2\frac{1}{3}}$ g.) $\frac{23}{10} = \underline{2\frac{3}{10}}$ h.) $\frac{3}{3} = \underline{1}$