

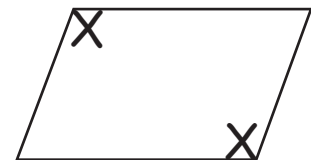
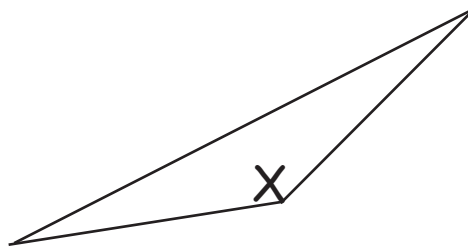
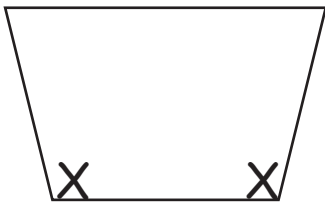
# KOMPETENZCHECK TAUSENDER / WINKEL



Denk dir eine Zahl mit folgenden Eigenschaften aus und trage sie in das freie Feld ein!

eine Zahl zwischen 4 325 und 4 236, die ohne Rest durch 2 teilbar ist	4 240
eine Zahl zwischen 9 968 und 9 977, die mit Rest durch 5 teilbar ist	9 969
eine Zahl zwischen 4 854 und 4 866, die mit Rest durch 2 teilbar ist	4 865
eine Zahl zwischen 7 165 und 7 183, die ohne Rest durch 5 teilbar ist	7 170

Einige der Winkel dieser Flächen sind größer als ein rechter Winkel. Suche und kreuze sie an!



Runde auf Tausender und mache die Überschlagsrechnung!

Der Bezzintank einer Tankstelle ist mit 73 000 l Treibstoff gefüllt. Am Montag werden 2 667 l, am Dienstag 7 293 l, am Mittwoch 5 270 l und am Donnerstag 6 909 l getankt.

Wie viel Liter Treibstoff bleiben ungefähr übrig?

Es bleiben ungefähr 51 000 l übrig.