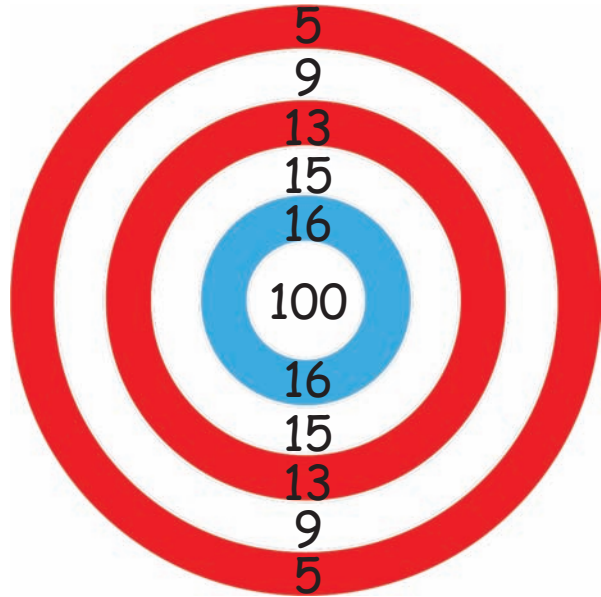




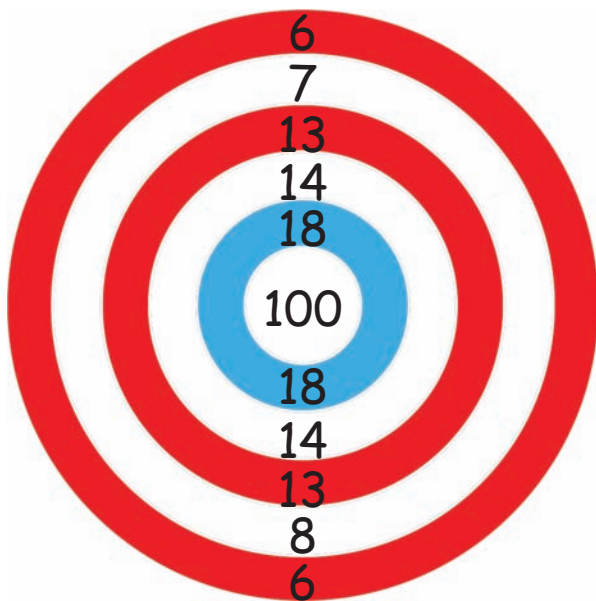
# Objectif atteint



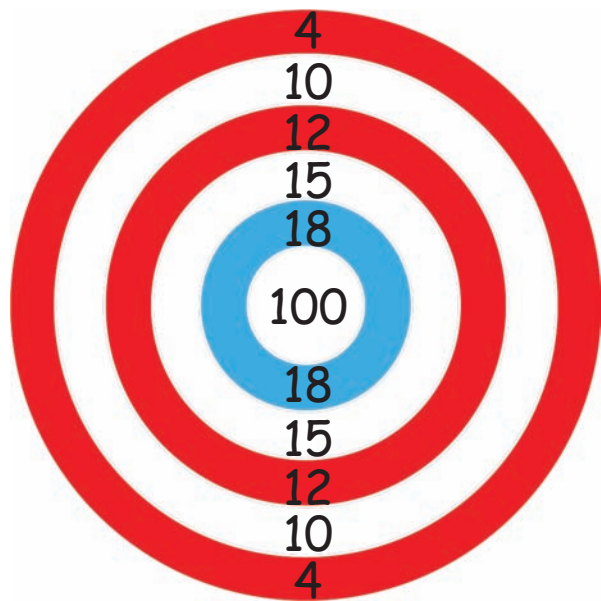
Avec un arc, un indien a tiré 9 fois sur une cible mais malheureusement n'a jamais atteint le centre. Mais quand même il a atteint la somme de 100 points. Comment a-t-il fait ? Plusieurs solutions sont possibles. Inscris les propositions de solution sur chaque cible.



Solution possible :  
2x5, 2x9, 2x13, 2x15, 1x16



Solution possible :  
3x6, 1x7, 3x13, 2x18



Solution possible :  
2x4, 2x10, 3x12, 2x18