














Subtrahieren - einfache Rechnungen und Sachaufgaben

Löse die Rechnungen! Als kleine Hilfe kannst du die kleinen Äffchen verwenden.

|  |                         |   |                         |
|--|-------------------------|---|-------------------------|
|  | $1 - 0 = \underline{1}$ |   | $9 - 1 = \underline{8}$ |
|  | $4 - 3 = \underline{1}$ |   | $6 - 2 = \underline{4}$ |
|  | $5 - 3 = \underline{2}$ |   | $7 - 2 = \underline{5}$ |
|  | $9 - 7 = \underline{2}$ |  | $3 - 0 = \underline{3}$ |
|  | $6 - 1 = \underline{5}$ |   | $9 - 4 = \underline{5}$ |
|  | $9 - 6 = \underline{3}$ |  | $5 - 4 = \underline{1}$ |
|  | $8 - 7 = \underline{1}$ |   | $7 - 3 = \underline{4}$ |

Schreibe die Antwort auf die Zeilen!

a) Christina hat heute im Geschäft 6 Bananen gekauft. Morgen nimmt sie 2 in die Schule mit. Wie viel hat sie dann noch?



Morgen hat sie noch 4 Bananen.

b) Florian hat sich für die Silvesternacht 10 Babyraketen gekauft. 5 hat er aber schon am Vortag, dem 30. Dezember, in die Luft geschossen. Wie viel hat er dann in der Silvesternacht noch?



Florian hat in der Silvesternacht noch 5 Babyraketen.

c) Maria hat sich im Urlaub 5 wunderschöne Armbänder gekauft. Wenn sie nach Hause kommt, will sie eines ihrer besten Freundin schenken und eines ihrer Schwester. Wie viel hat sie dann noch übrig?



Maria hat dann noch 3 Armbänder übrig.

d) Andreas hat im Garten 8 Äpfel geerntet. 3 davon sind leider von Würmern befallen. Wie viel bleiben ihm dann noch zum Essen übrig?



Ihm bleiben noch 5 Äpfel zum Essen übrig.