




VERHEXTE ZIFFERN

Hexe Lilly hat die Ziffern in Symbole verhext. Findest du heraus, welche Ziffer (von 1-9) für welches Symbol stehen muss, damit sich die angegebenen Summen in den Zeilen und Spalten ergeben? Gleiche Symbole bedeuten gleiche Ziffern.



-  = 1
-  = 2
-  = 3
-  = 4
-  = 5
-  = 6
-  = 7
-  = 8
-  = 9

					24
					26
					15
					22
					30
25	29	19	27	17	