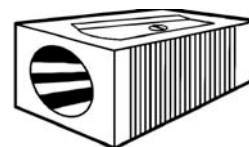




Welche Objekte zieht ein Magnet an?



- Kreuze an welche Gegenstände von einem Magnet angezogen werden.
- Mit den Lösungsbuchstaben kannst du den Lösungssatz vervollständigen.
- Nimm drei Gegenstände, schreib sie in die leeren Spalten und schau ob sie magnetisch sind.

Lösungsbuchstaben	Objekte	magnetisch	nicht magnetisch
R	Hemd		
E	Schlüssel		
A	Buch		
I	Spitzer		
L	Würfel		
S	Schere		
C	Katze		
K	Tabletten		
E	Schraube		
N	Nagel		



Alle Gegenstände die aus sind zieht ein Magnet an.